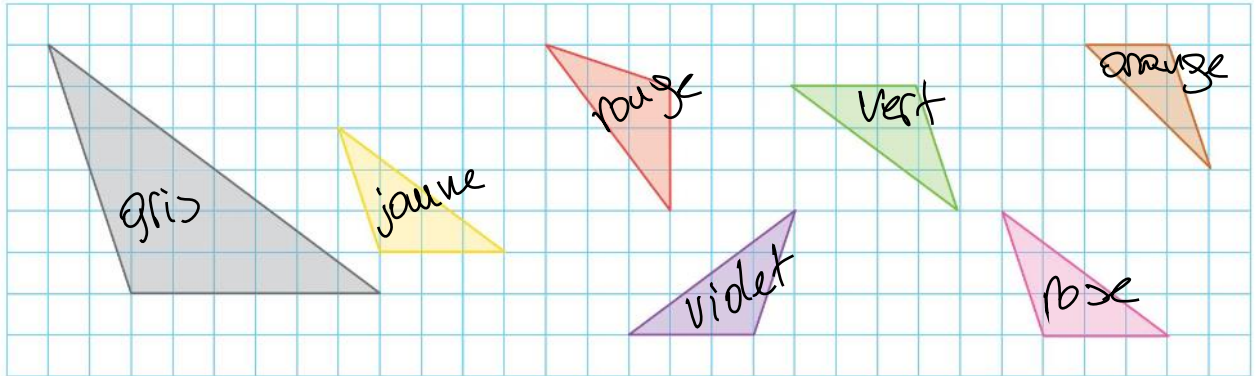


# Activité 1 : Ceux qui se ressemblent..

Objectif : Connaître les cas d'égalités de triangles

## Cherchons



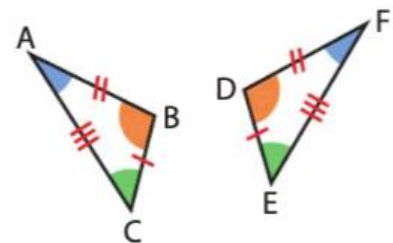
Parmi les triangles ci-dessus, indiquer ceux qui sont superposables.

### **BILAN :** Compléter :

○ Deux triangles sont **égaux** \*

lorsque leurs côtés sont deux à

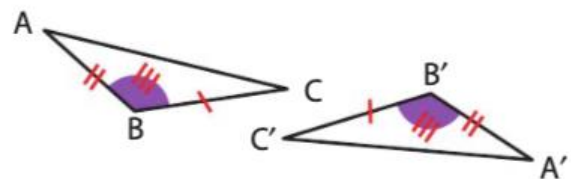
deux de .....



○ Si deux triangles ont un angle

égal ..... entre deux côtés

respectifs égaux alors ils sont égaux ;

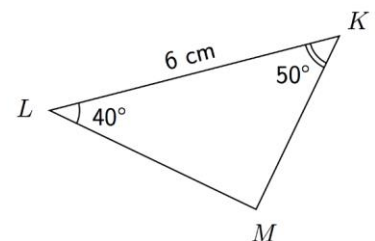
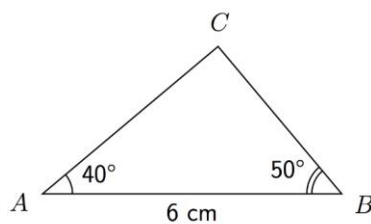


○ Si deux triangles ont

un côté égal compris

entre deux angles

respectifs égaux alors ils sont égaux.



\*Vocabulaire : On dit aussi *superposables* ou *isométriques*.