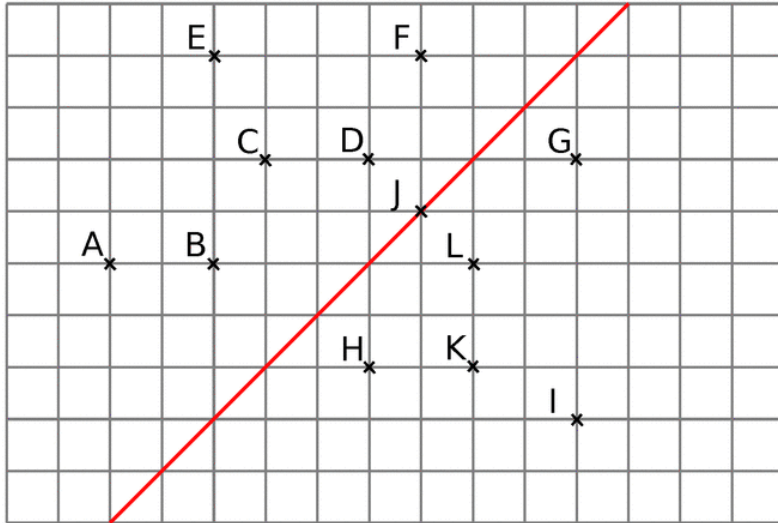


Exercice 1

a. Sur la figure ci-dessous, cite les couples de points qui sont symétriques par rapport à l'axe rouge.

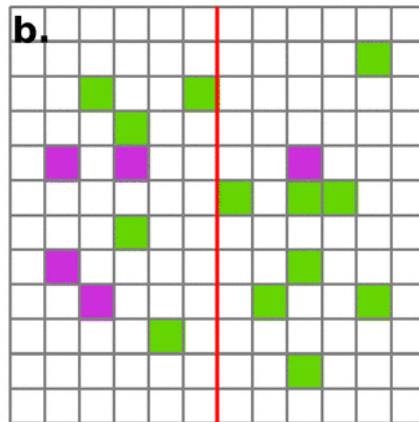
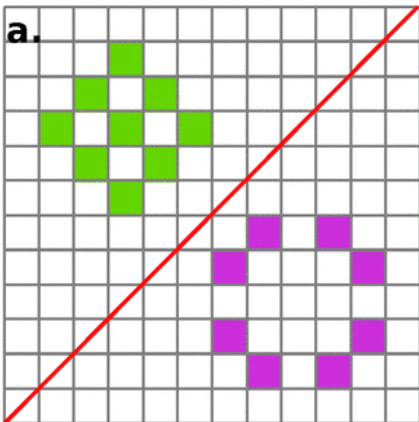


b. Complète la figure pour que chaque point ait un symétrique par rapport à la droite rouge.

Liste des points symétriques par rapport à la droite.

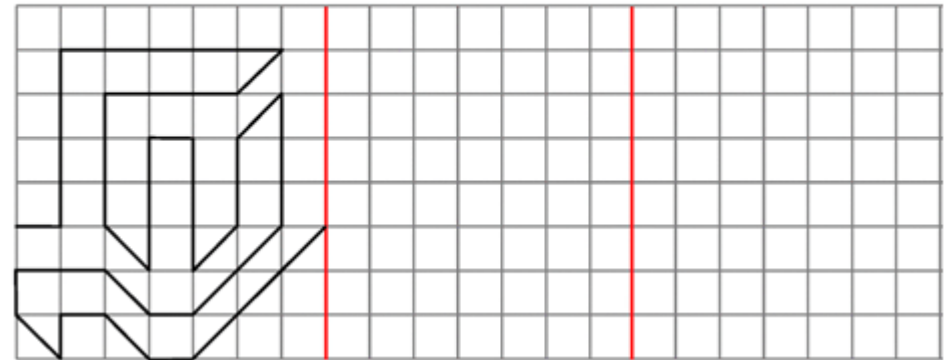
Exercice 2

Reproduis et colorie le minimum de cases pour que l'axe rouge soit un axe de symétrie.



Exercice 3

trace le symétrique de cette figure par rapport à l'axe rouge. Continue en répétant au moins une autre fois le motif.



Exercice 4 :

A l'aide d'un papier calque, reproduire le **symétrique** de chacune des figures ci-dessous par rapport à la droite.

