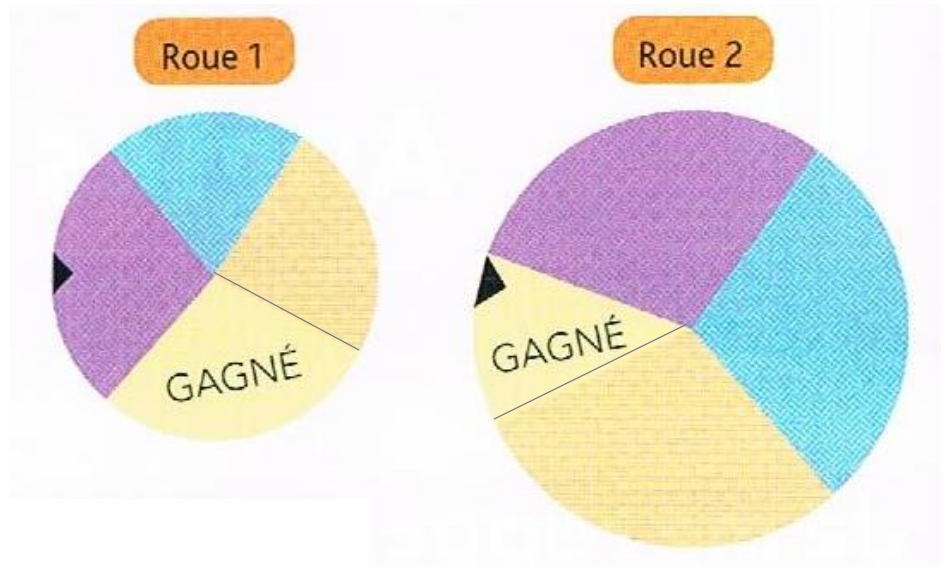


Activité 1

Quelle roue faut-il faire tourner pour avoir la plus grande chance de gagner ?

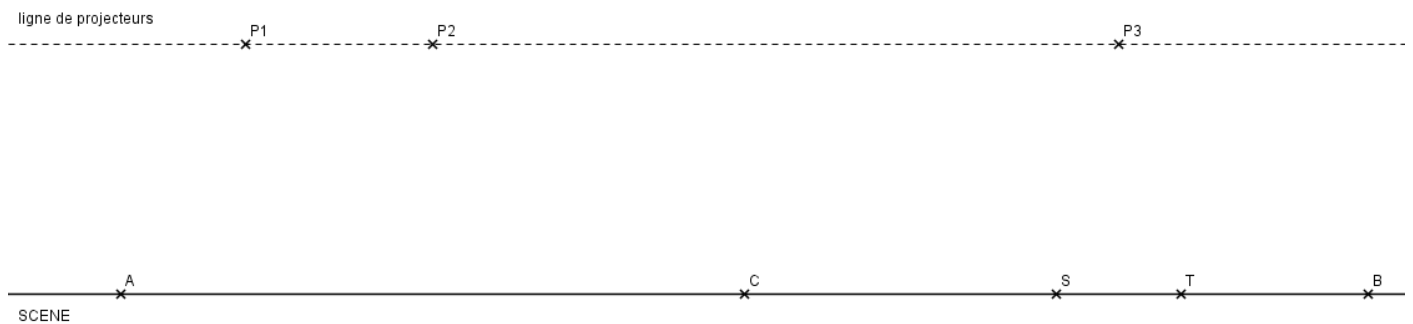


Activité 2

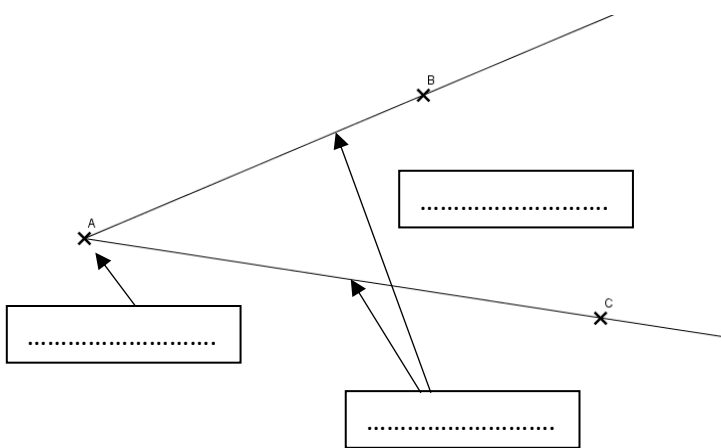
Pour un tableau d'un spectacle, trois projecteurs seront allumés :

Les projecteurs P1 et P2 (lumière rouge) éclaireront les musiciens placés sur la scène entre les points A et C. Le projecteur P3 (lumière jaune) éclairera la chanteuse située sur la scène entre les points S et T.

Dessinez sur le schéma les faisceaux lumineux :



BILAN : Compléter avec les mots : *aigu, angle, côtés de l'angle, demi-droites, droit, obtus, origine, plat, sommet de l'angle*



Un est une portion de plan délimitée par deux de même

On le note : \widehat{BAC}

Un angle mesure 180°

Un angle mesure 90°

Un angle mesure entre 0° et 90°

Un angle mesure entre 90° et 180°